

I den här boken tränar vi på

Olika längder	5
Meter	10
Centimeter	13
Längre än	16
Längst – kortast	19
Läsa av längder	26
Meter och centimeter	32
Decimeter	36
Millimeter	46
Kilometer	52
Mil	54
Omkrets	60
Vad tycker du?	68
Vad kommer du ihåg?	69
Till läraren	79

Olika längder

mil

kilometer



meter



decimeter



centimeter



millimeter



Centimeter

1 centimeter = 1 cm

100 cm = 1 m



Vilken färg har godisremmarna?

Skriv på raden.

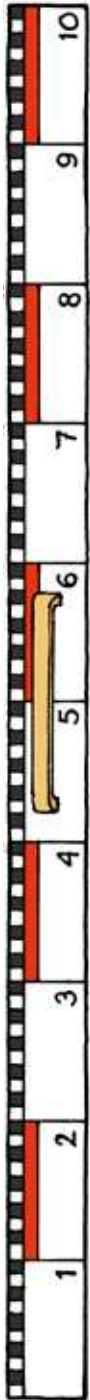
Godisremmen som är 10 cm lång har färgen _____

Godisremmen som är 5 cm lång har färgen _____


Godisremmen som är 9 cm lång har färgen _____

Läs av längderna.


Skriv under varje bild.



_____ dm



_____ dm



_____ dm

Det här är Ali, Pia och Tom.



Ali är 163 cm lång.

Pia är 10 dm lång.

Tom är 1 m 5 dm lång.

Deras längder är skrivna på olika sätt.

Skriv rätt namn på raden.

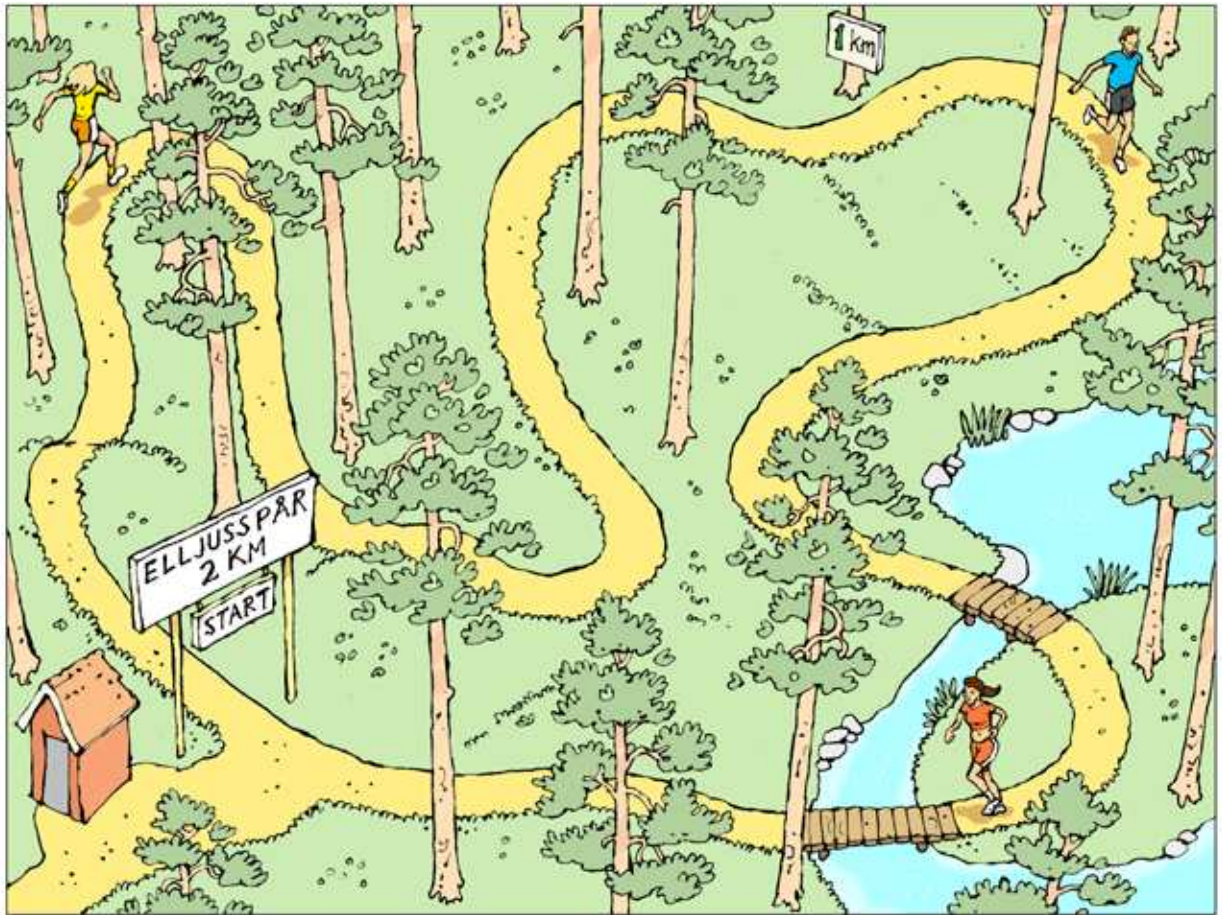
_____ är längst.

_____ är kortast.

_____ är 1 m lång.

_____ är 1 ½ m lång.

Jag tror att _____ är yngst.



Hur långt springer Kent, Lena och Frida?

Elljusspåret är 2 km.

Kent springer elljusspåret 1 gång.

Då springer han _____ km.

Lena springer elljusspåret 2 gånger.

Då springer hon _____ km.

Frida springer elljusspåret 3 gånger.

Då springer hon _____ km.